




1. 最后一张扑克牌

梅花 9。花色的顺序是红桃, 梅花, 方块, 黑桃循环。点数顺序依次加 2, 加 3, 加 4, 加 5, 加 6.....

2. 换花瓶



3. 猜成语: 沧海一粟

4. 这个字谜的答案是“晶”字, 因为“晶”字刚好九横六竖。

数独

7	6	4	5	9	8	1	3	2
5	8	2	3	1	6	4	9	7
9	1	3	2	4	7	6	8	5
4	5	8	1	6	9	2	7	3
2	3	6	4	7	5	9	1	8
1	9	7	8	2	3	5	6	4
6	7	5	9	3	2	8	4	1
8	4	9	7	5	1	3	2	6
3	2	1	6	8	4	7	5	9

校园笑话

语文课上, 小强趴在桌子上睡觉, 这时老师提问他: “小强, 你造一个疑问句。” 小强不知所措: “老师, 你是要我问你造一个疑问句?” 老师: “再造一个祈使句。” 小强低着头说: “老师我没听懂, 请再说一遍。” 老师: “再造一个感叹句。” 小强低着头说: “太难了! 我不会。” 老师: “回答得很好, 坐下吧。” 这下小强懵了。

同学甲对同学乙说: “你上学为什么跑这么快?” 乙: “因为我记忆力差。” 甲: “这跟记忆力有什么关系?” 乙: “我刚在家背了一篇课文, 担心路上耽误时间长了, 会把课文忘了。”

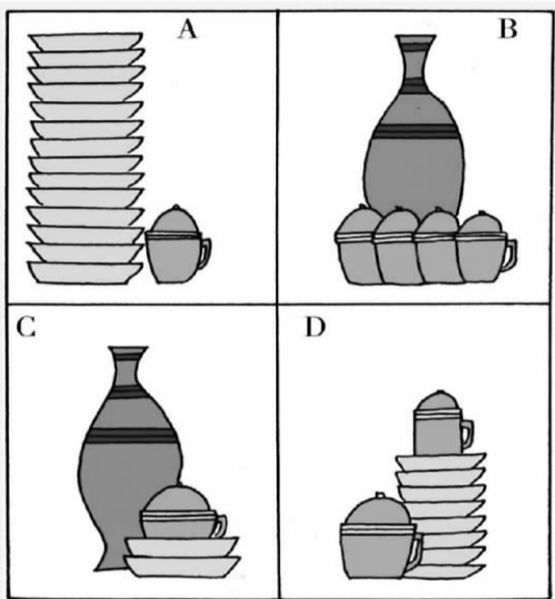
宿舍里, 一舍友拿着镜子聚精会神地照了半天, 突然说: “我好帅啊!” 另一舍友笑道: “你这种人也太狠了, 连自己都骗。”

考试结束后, 老师问小明: “考的怎么样?” 小明: “烤糊了。” 老师: “什么意思?” 小明: “没考好呗, 您别问了, 我想静静。” 老师: “静静是谁? 快告诉我, 同样的错误可不能再犯!” 小明一脸无奈。

英语课上, 老师让同学们用“frist”造句。一位同学站起来大声说: “frist, 我想上厕所!” 老师一脸黑线: “是‘first’, 不是‘frist’, 你到底有没有好好学英语!”


地理老师问: “河水往哪里流啊?” 学生大声唱道: “大河向东流哇!” 老师又问: “天上有多少颗星星啊?” 学生又唱: “天上的星星参北斗哇!” 老师气得不行, 最后问: “你给我出去!” 学生还唱: “说走咱就走哇!”

考眼力 2 换花瓶



A 图中器皿的重量等于 B 图中器皿的重量; C 图中器皿的重量等于 D 图中器皿的重量。请你推断一下, 1 个花瓶是几只杯子的重量?

考数学 1 最后一张扑克牌



根据前面 5 张扑克牌的排列规律, 找出最后一张扑克牌是什么牌。

4 答案

有一个官员, 他的女儿到了婚嫁的年龄, 前来提亲的人络绎不绝。官员觉得那些有钱人的公子都是些花花公子, 女儿无论如何也不能嫁给那些人的。有一次, 官员听说一个叫张义的人比较有才华, 于是就派人把张义叫到自己府上, 想考一考他。官员说: “我请教你一个词。一字九横六竖, 问遍天下不知。有人去问圣人, 圣人想了三天。” 张义等官员说完, 马上说出了这个词。官员很高兴, 就把张义留在身边重用, 又把女儿嫁给了他。你知道官员说的是哪个词吗?

数独

		4	5			1		2
	8		3				9	
9		3	2		7			5
4				6			7	3
2				7	5			8
1	9			2				4
6			9		2	8		1
	4				1		2	
3		1			4	7		

在空白格填入数字, 使其每行、每列、每一个粗线格(3×3)内的数字为 1-9, 不重复。

考推理 3 猜成语



这幅画里有一个四字成语, 你能找出来吗?

在空白格填入数字, 使其每行、每列、每一个粗线格(3×3)内的数字为 1-9, 不重复。